

5.



L'effort exercé sur la colonne vertébrale de l'athlète est :

A

La compression

B

La traction

C

La flexion

D

La torsion

6.



L'effort exercé sur la barre de l'haltère est :

A

La flexion

B

La torsion

C

La compression

D

La traction

7.



L'effort exercé sur la corde est :

A

La flexion

B

La compression

C

La traction

D

La torsion

8.



L'effort exercé sur la barre fixe est :

A

La compression

B

La torsion

C

La flexion

D

La traction

9.



L'effort exercé sur la perche est :

A

La flexion

B

La traction

C

La torsion

D

La compression

?

10.



L'effort exercé sur les colonnes du temple est :

 A La traction B La compression C La torsion D La flexion

11.



L'effort exercé sur le fil de pêche est :

 A La torsion B La flexion C La traction D La compression

12.



L'effort exercé sur la canne à pêche est :

 A La torsion B La traction C La flexion D La compression

13.

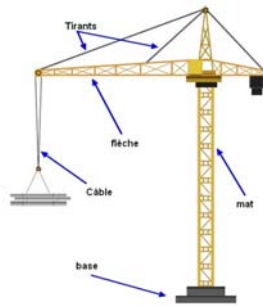


L'effort exercé sur la vis est :

 A La flexion B La compression C La traction D La torsion

?

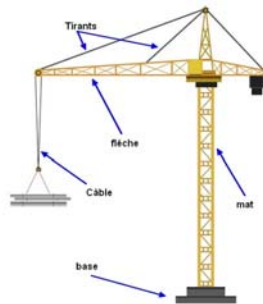
14.



Quels sont les éléments soumis à la traction ?

- A le câble
- B les tirants
- C le mât
- D la flèche

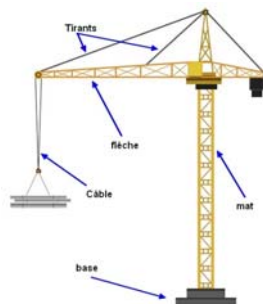
15.



Quels sont les éléments soumis à la compression ?

- A la base
- B la flèche
- C les tirants
- D le mât

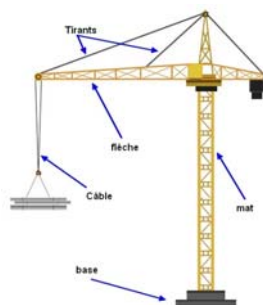
16.



Quels sont les éléments soumis à la compression ?

- A la base
- B le mât
- C les tirants
- D la flèche

17.

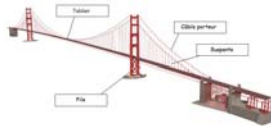


Quel est l'élément soumis à la flexion ?

- A le mât
- B les tirants
- C la flèche
- D la base

?

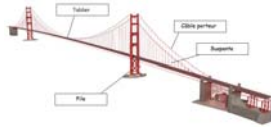
18.



Quel est l'élément soumis à la flexion ?

 A Le tablier B les câbles porteurs C les suspentes D Les piles

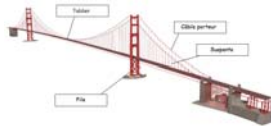
19.



Quels sont les éléments soumis à la compression ?

 A Les piles B les suspentes C Le tablier D les câbles porteurs

20.



Quels sont les éléments soumis à la traction ?

 A Les piles B Le tablier C les suspentes D les câbles porteurs

?